



# «ШКОЛА БЕЗОПАСНОСТИ», 3 КЛАСС

Всероссийская викторина 2016-2017 учебного года

ФАМИЛИЯ

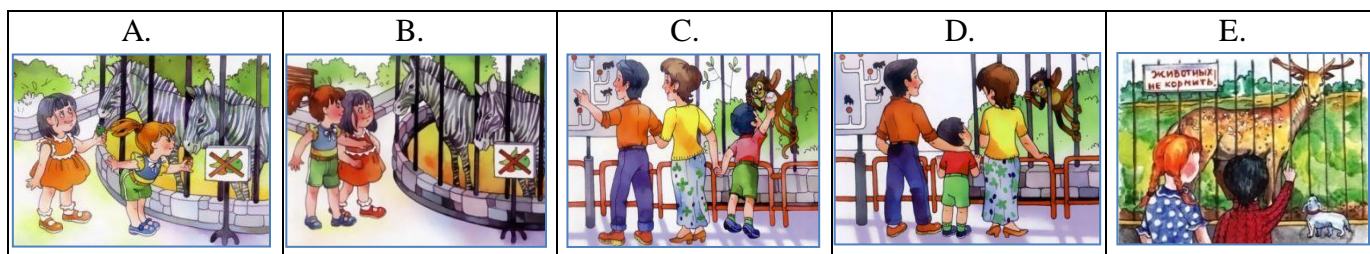
КЛАСС  -

ИМЯ

Отметьте верный вариант ответа. Время выполнения работы - 90 минут.

**Часть I. За каждое верно выполненное задание начисляется 3 балла.**

1. На каких картинках дети нарушают правила поведения в зоопарке?




1  А, С

2  В, Е

3  D, E

2. Установи верное соответствие между изображёнными ситуациями и знаками пожарной безопасности:



1  А-2, В-5, С-1, D-4, E-3

2  А-3, В-5, С-2, D-1, E-4

3  А-3, В-5, С-1, D-2, E-4

3. Определи, какие действия необходимо выполнить, если тебя укусило насекомое (насекомые):

- A. удалить из кожи жало;
- B. сделать надрез, выдавить яд;
- C. ужаленное место смочить спиртом;
- D. приложить к ужаленному месту тепло;
- E. дать пострадавшему обильное питьё;
- F. принять антигистаминные средства;
- G. наложить на ужаленную конечность шину;
- H. вызвать «скорую помощь».



1  В, С, D, F, H


2  А, С, E, F, H

3  А, D, E, G, H

## «ШКОЛА БЕЗОПАСНОСТИ», 3 КЛАСС

Всероссийская викторина 2016-2017 учебного года

4. Определи, как должен обойти остановившийся транспорт вышедший пассажир на дороге с двусторонним движением:



- |    |                                 |
|----|---------------------------------|
| 1. | Спереди                         |
| 2. | Сзади                           |
| 3. | Подждать когда, уедет транспорт |

1   А-1, В-3, С-3

2   А-3, В-1, С-2

3   А-2, В-3, С-1

5. На каких картинках ребята на водоёме находятся в опасной ситуации?

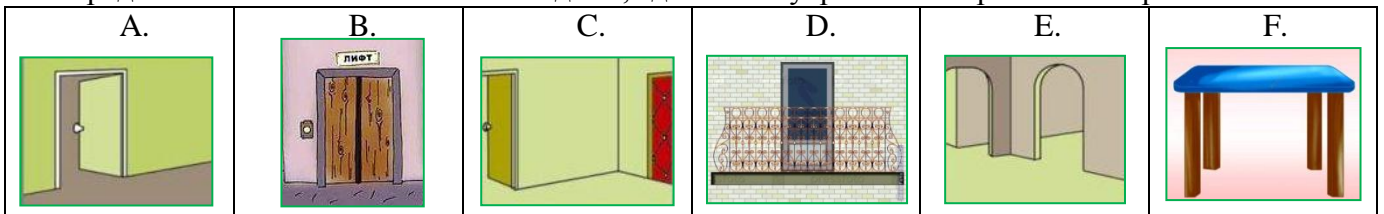


1   В, С, D, E, F

2   А, С, D, E, F

3   А, В, С, D, E, F

6. Определи самые безопасные места в доме, где можно укрыться во время землетрясения:


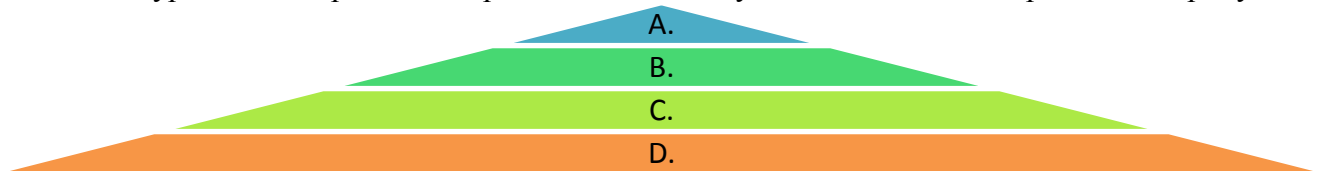


1   А, В, С, E

2   В, С, D, F

3   А, С, E, F

7. На какие уровни в «пирамиде здорового питания» нужно поместить изображённые продукты?



1   А – 2, 8; В – 5, 7, 9;  
С – 1, 3; D – 4, 6

2   А – 4, 6; В – 1, 3;  
С – 2, 8; D – 5, 7, 9

3   А – 2, 8; В – 1, 3;  
С – 5, 9; D – 4, 6, 7



## «ШКОЛА БЕЗОПАСНОСТИ», 3 КЛАСС

Всероссийская викторина 2016-2017 учебного года

8. Соотнеси правила поведения на улице и дома и картинки, их иллюстрирующие:

<p>A.</p>	<p>B.</p>	<p>C.</p>	<p>D.</p>	<p>E.</p>	<p>F.</p>
<p>1. Не дразни собак!</p>	<p>2. Не разговаривай с незнакомцами!</p>	<p>3. Не трогай чужие вещи!</p>	<p>4. Не играй на стройке!</p>	<p>5. Не открывай дверь посторонним!</p>	<p>6. Не наступай на люки!</p>

1  A-4, B-6, C-1, D-3, E-2, F-5

2  A-4, B-3, C-1, D-2, E-6, F-5

3  A-4, B-5, C-1, D-3, E-6, F-2

9. Определи правильную последовательность действий при пожаре в школе:

<p>A.</p>	<p>B.</p>	<p>C.</p>	<p>D.</p>	<p>E.</p>	<p>F.</p>
-----------	-----------	-----------	-----------	-----------	-----------

1  D, F, A, C, E, B

2  F, A, C, D, E, B

3  D, F, C, A, E, B

10. Определи, какие лекарства ты сам можешь принять, если у тебя заболела голова:

<p>A.</p>	<p>B.</p>	<p>C.</p>	<p>D.</p>	<p>E.</p>	<p>F.</p>
-----------	-----------	-----------	-----------	-----------	-----------

1  A, C, F

2  B, D, E

3  Ничего не принимать, обратиться за помощью к взрослым

Часть II. За каждое верно выполненное задание начисляется 5 баллов.

11. На каких картинках дети не нарушают правила поведения на дороге и в транспорте?

<p>A.</p>	<p>B.</p>	<p>C.</p>	<p>D.</p>	<p>E.</p>	<p>F.</p>	<p>G.</p>
-----------	-----------	-----------	-----------	-----------	-----------	-----------

1  B, D, F

2  C, E, G

3  A, D, E

## «ШКОЛА БЕЗОПАСНОСТИ», 3 КЛАСС

Всероссийская викторина 2016-2017 учебного года

12. Как помочь самому себе в воде, если свело ногу во время купания?

1  Срочно плыть к берегу

2  Распрямив ногу, сильно потянуть рукой ступню на себя за большой палец

3  Кричать и звать на помощь



13. Определи, какие правила эвакуации из зоны лесного пожара необходимо соблюдать:

- A. определить направление ветра;
- B. определить направление распространения огня;
- C. не забыть взять все свои вещи;
- D. убежать от огня в лесу надо в ту же сторону, куда дует ветер;
- E. выходить перпендикулярно огню вдоль рек, просек в безопасное место;
- F. выходить из леса только на ветреную сторону, делать это быстро;
- G. дышать через мокрую ткань.



1  A, B, E, F, G

2  B, C, E, F, G

3  A, C, D, F, G

14. Распредели картинки на две группы: А – меры по профилактике гриппа и ОРВИ; В – недопустимые действия во время эпидемии гриппа и ОРВИ:

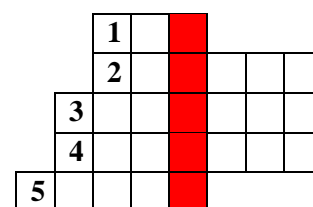
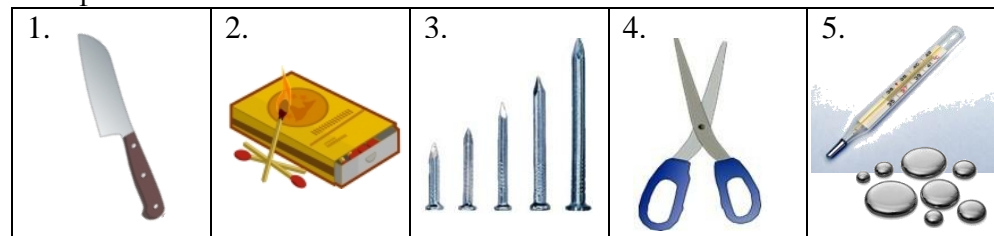


1  А – 1, 2, 3, 4; В – 5, 6, 7

2  А - 2, 4, 6; В - 1, 3, 5, 7

3  А – 1, 2, 4, 5; В – 3, 6, 7

15. Разгадай кроссворд «Опасные предметы и вещества» и определи ключевое слово на цветном фоне:




1  Уксус

2  Топор

3  Жизнь

**Часть III. За каждое верно выполненное задание начисляется 9 баллов.**

16. Определи, какие знаки относятся к знакам пожарной безопасности:



1  B, D, E, G

2  A, C, D, G

3  B, C, E, F

## «ШКОЛА БЕЗОПАСНОСТИ», 3 КЛАСС

Всероссийская викторина 2016-2017 учебного года

17. Определи правильную последовательность действий при оказании первой помощи пострадавшему от солнечного и теплового удара:

- A. уложить на спину, голову приподнять;
- B. напоить холодной водой;
- C. тело обтереть холодной водой или обернуть влажной простыней;
- D. перенести пострадавшего в тень или в прохладное место;
- E. снять одежду, ослабить пояс;
- F. на голову и лоб положить холодные компрессы.




1  D, A, E, C, F, B

2  A, E, C, F, D, B

3  D, E, A, B, F, C

18. Установи верное соответствие:



- |    |                  |
|----|------------------|
| 1. | Предупреждающие  |
| 2. | Запрещающие      |
| 3. | Предписывающие   |
| 4. | Знаки сервиса    |
| 5. | Информационные   |
| 6. | Знаки приоритета |

1  A-5, B-6, C-4,  
D-2, E-3, F-1

2  A-3, B-6, C-4,  
D-1, E-5, F-2

3  A-1, B-3, C-5,  
D-2, E-4, F-6

19. Разгадай ребус и укажи значение этого слова:

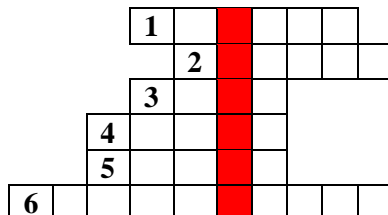


1  Специалист, умеющий  
выполнять работы под  
водой.

2  Человек, ответственный  
за безопасность людей,  
находящихся в воде.

3  Человек,  
преодолевающий вплавь  
различные дистанции.

20. Разгадай кроссворд «Чрезвычайная ситуация» и определи ключевое слово на цветном фоне:



1



2



3

