

ФАМИЛИЯ

КЛАСС  -

ИМЯ

Отметьте верный вариант ответа. Время выполнения работы - 90 минут.

**Часть I. За каждое верно выполненное задание начисляется 3 балла.**

1. Укажите изображение фуражки – форменного головного убора



1



2



3

2. Укажите род войск, которого не существует



1  военно-воздушные  
силы

2  наземно-десантные  
войска

3  мотострелковые войска

3. Вид военной техники, показанный на картинке

- а) боевая машина десанта
- б) самоходная артиллерийская установка
- в) бронетранспортёр




1  а

2  б

3  в

4. Род войск, которому принадлежит петличный знак, изображенный на картинке



1  войска против-  
воздушной обороны

2  радиотехнические  
войска

3  космические войска

5. Выберите названия воинских формирований Вооружённых сил России

- а) легион
- б) рота
- в) академия
- г) бригада

1  а, б

2  б, в

3  б, г



СЕРТИФИКАЦИЯ УЧАЩИХСЯ

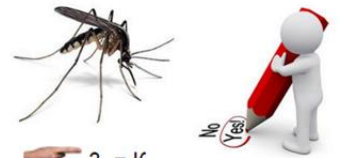
# Центр дистанционной сертификации учащихся "ФГОСТЕСТ"

## РОССИЯ. ВООРУЖЕННЫЕ СИЛЫ, 3 КЛАСС

Всероссийская викторина 2016-2017 учебного года

6. Разгадайте ребус, укажите значение загаданного слова.

- а) форменный знак на головном уборе
- б) крупное соединение кораблей
- в) наплечный знак различия



1   а

2   б

3   в

7. Укажите изображение защитного шлема танкиста




1

2

3

8. Замените флажки буквами и определите название тяжёлого ракетного подводного крейсера стратегического назначения, самой большой подводной лодки в мире.



1

2

3

9. Элемент экипировки военнослужащего, показанный на картинке



1   экзоскелет

2   бронезилет

3   вещмешок

10. Определите, на какой картинке показан единый пулемёт Калашникова



1

2

3

### Часть II. За каждое верно выполненное задание начисляется 5 баллов.

11. Выберите более высокое офицерское воинское звание в Российской армии

1   полковник

2   майор

3   старший лейтенант



СЕРТИФИКАЦИЯ УЧАЩИХСЯ

Центр дистанционной сертификации учащихся “ФГОСТЕСТ”

РОССИЯ. ВООРУЖЕННЫЕ СИЛЫ, 3 КЛАСС

Всероссийская викторина 2016-2017 учебного года

12. Самодвижущийся подводный боевой снаряд

1  гаубица

2  субмарина

3  торпеда

13. Укажите изображение боевой бронированной гусеничной машины БМП-3



1



2



3

14. Разгадайте ребус, укажите изображение зенитного ракетного комплекса с таким названием.



1



2



3

15. Укажите изображение флага Ракетных войск стратегического назначения России



1



2



3

Часть III. За каждое верно выполненное задание начисляется 9 баллов.

16. Определите, на какой картинке показан погон лейтенанта Вооруженных сил России



1



2



3

17. Укажите изображение разведывательно-ударного вертолёта К-52 «Аллигатор».



1



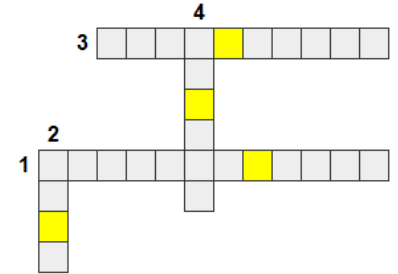
2



3

18. Решите кроссворд, укажите выделенные буквы.

1. Военское звание между майором и полковником.
2. Военское формирование, состоящее из батальонов.
3. Средство для защиты органов дыхания, глаз и кожи лица.
4. Дерево, которое фигурирует в названии ракетного комплекса.



1   л, и, п, о

2   п, и, л, а

3   о, п, и, р

19. Укажите название оружия изображенного на картинке



1   пулемёт

2   гранатомёт

3   огнёмёт

20. Определите, на какой картинке показан погон к повседневной форме одежды офицерского состава Военно-морского флота России



1



2



3