

Ребята, для каждого вопроса с вариантами ответов вы должны выбрать тот, который считаете верным и обвести вариант выбранного ответа карандашом или ручкой (А, Б, В, Г или Д). Для каждого вопроса с открытым ответом вы должны дать краткий и четкий ответ (число или слово). Будьте внимательны! На выполнение всех заданий у вас есть 45 минут. За каждый правильный ответ присуждается один балл.

Участник _____

1. Хотите я в шеренгу вас построю?
Могу в тетрадке быть косою.

В прямом и переносном смысле я важна. Ну а в пенале без меня никак нельзя! Скажите, кто же я, друзья?

- А. Ручка. Б. Линейка.
В. Резинка. Г. Карандаш.

2. Тимофей прыгнул выше Кати, но ниже Нины. Катя прыгнула ниже Тимофея, но выше Оли. Кто из девочек прыгнул выше всех?

- А. Оля. Б. Нина. В. Катя.

3. При решении задачи вместо того, чтобы прибавить 17, Коля вычел 17. На сколько его ответ отличается от правильного?

- А. На 33. Б. На 17.
В. На 34. Г. На 0.

4. Для игры приготовили карточки с натуральными числами от 1 до 99. Сколько раз на карточках встречается цифра 5, если потерялась карточка с числом 75?

- А. 18. Б. 20. В. 19.
Г. 10. Д. 9.

5. Бумагу изобрели:

- А. В Древнем Китае.
Б. На Руси.
В. В Древнем Риме.
Г. В Древней Греции.

6. Выберите слово, отличающееся от других значением корня.

- А. Горка. Б. Сгорел.
В. Пригорок. Г. Горный.

7. Пчёлка-труженица может принести свой мёд в улей только через окошки, номера которых кратны числу 2. Выберите вариант, в котором записаны верные номера таких окошек.

- А. 3 и 6. Б. 9, 3 и 6.
В. 4 и 6. Г. 4 и 1.



4

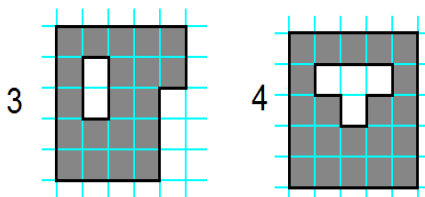
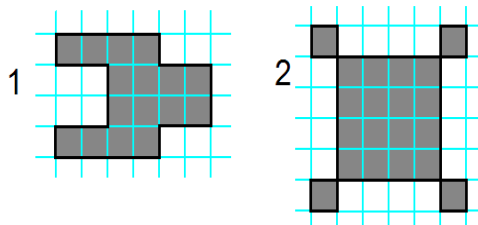
9

3

1

6

8. Выберите вариант, в котором указаны номера фигур, равных по площади.



- А. 1 и 4. Б. 3 и 4.
В. 2 и 3. Г. 1 и 3.

9. Какие электростанции строят на реках?

- А. ТЭС. Б. АЭС. В. ГЭС. Г. ТЭЦ.

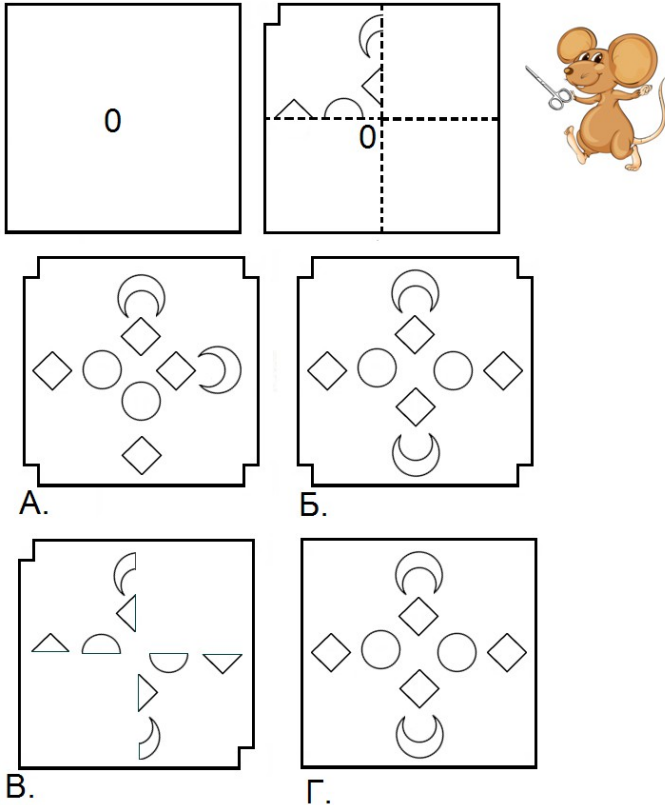
10. Для заготовки дров взяли три бревна. Сколько получилось поленьев, если было сделано 15 распилов?

- А. 10. Б. 12.
В. 16. Г. 18.

11. В библиотеке на двух полках — 76 учебников. Когда с первой полки выдали 30, а со второй — 40 учебников, то на полках осталось книг поровну. Сколько книг было на первой полке?

- А. 33. Б. 38. В. 42.
Г. 44. Д. 43.

12. Мышонок сложил лист бумаги вчетверо, сделал надрезы и развернул. Какая салфетка у него получилась?



13. Выберите число, в котором 7 единиц первого разряда, 5 единиц второго разряда и 3 единицы третьего разряда.

- А. 753. Б. 357.
В. 375. Г. 735.

14. Выберите вариант, в котором слова не обозначают одно и то же.

- А. Река — реченька. Б. Сова — совушка.
В. Мак — макушка.

15. Этот гриб растёт целой семьёй. Складывая и вычитая буквы и части слов, вы узнаете его название. Запишите название гриба в ответе.

О + - С + - ЦЫПЛЁ = ?

Ответ: _____

16. Фразеологизм «на седьмом небе» обозначает ...

- А. Очень высоко.
Б. В состоянии наивысшего счастья, блаженства.
В. На седьмой ступеньке.

17. В каком ряду во все слова нужно вписать букву Д?

- А. Блю..це, жу..кий, Леони.. .
Б. Сла..кий, похо..ка, ре..кий.. .
В. Хала.., лебё..ка, прово..ка.. .
Г. Тетра..ка, пал..ка, наса..ка.. .

18. Что изображено на рисунке?



- А. Товары. Б. Услуги.
В. Недвижимость. Г. Валюта.

19. Начиная с квадратика, на который указывает стрелочка, следуя подсказкам компаса, соберите название сияющего камня и запишите его в ответе.

Ц	К	Е	Н	Н	Р	И
Ы	А	П	Р	Р	О	Л
Я	Ч	С	М	А	П	Р
Ы	Л	Р	У	В	Л	Б
В	Н	П	Р	О	Л	Д
Ч	С	М	П	Н	Г	Ш
У	К	Е	Р	Н	Щ	Ь

Start →

- 4 квадратика на восток ___
3 квадратика на север ___
3 квадратика на восток ___
3 квадратика на север ___
3 квадратика на запад ___
Ответ: _____

20. Разгадайте слова, которые скрываются за номерами. В ответ запишите только то слово, которое может быть и именем собственным, и нарицательным.

1	2	3	4	5	6	7	8	9
С	О	Р	Е	В	Н	У	А	И

- 3868 - _____ 15238 - _____
54168 - _____ 5468 - _____
3218 - _____ 3762 - _____
Ответ: _____